

SALA DE RECURSOS MULTIFUNCIONAL

ESCOLA MUNICIPAL PROFESSOR SEBASTIÃO FELTRIN

PROFESSORA: CINTIA RODRIGUES BENICIO

TURMA: B

ÁREAS TRABALHADAS:ÁREA DA LINGUAGEM,ÁREA DA MATEMÁTICA E ÁREA EMOCIONAL.

DATA DA REALIZAÇÃO: DE 21 A 25 DE JUNHO.

ALUNO (A): _____ TURMA: 4º ANO



Senhores Pais e Responsáveis

Vocês estão recebendo as **ATIVIDADES COMPLEMENTARES DE ESTUDO PARA O PERÍODO DE ISOLAMENTO – COVID 19**, referente a semana de **21 A 25 DE JUNHO de 2021**. Contamos com sua participação para que todas essas atividades sejam realizadas pelo seu filho.

No roteiro a seguir estão as atividades e todas as orientações para sua execução. Tudo está descrito de forma simples. Qualquer dúvida estaremos a disposição no WhatsApp.

Abrços Professora Cintia.

VÍDEO OU ÁUDIO DA EXPLICAÇÃO DA PROFª.	Assista ao vídeo/áudio explicativo da professora.
O QUE VAI ESTUDAR?	Área da matemática: Raciocínio lógico matemático, cálculos de adição subtração, leitura e interpretação. Área da linguagem: Antecipação de leitura, ordenação do pensamento, sequência de fatos a vista de gravura, escrita de texto. Área cognitiva: percepção visual, orientação espacial, coordenação visomotora.
PARA QUÊ VAMOS ESTUDAR ESSES	Valorizar a leitura como fonte de conhecimento.

<p>CONTEÚDOS?</p>	<p>Aprimorar as habilidades de percepção das linguagens envolvidas na leitura.</p> <p>Ler, interpretar e ampliar vocabulário.</p> <p>Perceber a presença da matemática em tudo que fizermos.</p> <p>Trabalhar o sistema numérico.</p> <p>Trabalhar resolução de situação problema.</p> <p>Identificar informações com excessos de dados, interpretação .</p> <p>Identificar diferenças pela visão. aperfeiçoar o sentido.</p> <p>Trabalhar capacidades de compreensão.</p>
<p>COMO VAMOS ESTUDAR ESSES CONTEÚDOS</p>	<p>As atividades propostas devem ser realizadas nos roteiros impressos. Organize um ambiente tranqüilo e fique atento as explicações dadas pela professora no whatsapp.</p>
<p>COMO VAMOS REGISTRAR O QUE APRENDEMOS?</p>	<p>Buscando as atividades impressas na escola. Lendo e preenchendo de acordo com as orientações as atividades enviadas completamente, sem deixar nada em branco ou incompleto. Ouvindo atentamente as explicações que a professora envia pelo whatsapp e chamando quando não entender ou conseguir fazer as atividades. Devolvendo as atividades semanalmente para que a professora faça as correções necessárias.</p>

ATENÇÃO: Qualquer dúvida estou a disposição por whatsapp das 13h as 17h.

ÁREA DA LINGUAGEM

1-Observe a cena e desenhe o que aconteceu antes e o que aconteceu depois.



ÁREA DA MATEMÁTICA

Resolva as situações problemas.

1-Lucas comprou 1 centena e meia de varinhas para fazer bandeirinhas.Quantas varinhas Lucas comprou ao todo?

Resposta _____

2-Augusto comprou 4 dezenas de papéis verdes, 3 dezenas de papéis amarelos e 2 dezenas de papéis azuis.Quantos papéis ele comprou ao todo?

Resposta _____

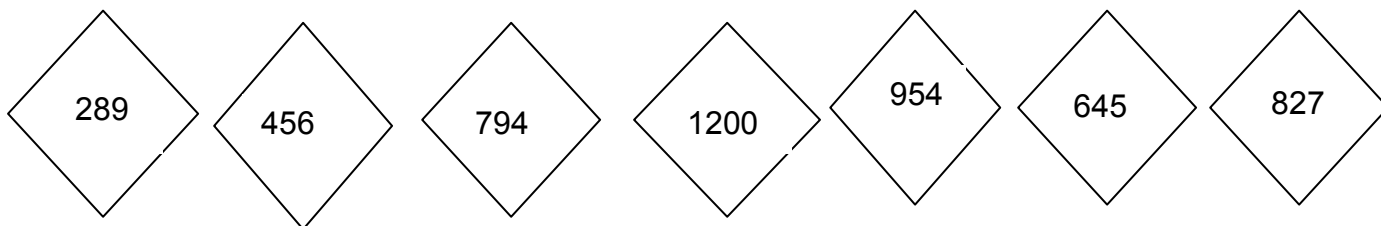
3-Luís queria comprar uma camisa do Brasil que custava 98,00 e só tinha 23,00.Quantos reais Luís precisava para comprar a camisa?

Resposta _____

4-Neymar já participou de 56 jogos e Marcelo de 40 jogos.Qual é a diferença de jogos entre eles?



Resposta _____

Escreva por extenso os números dos balões.



ÁREA PSICOMOTORA

1-PROCURE AS FIGURAS E DIGA QUANTAS TÊM.



2-COPIE AS FIGURAS IGUAIS AO MODELO.

